

# Демоверсия экзамена по географии 8 класс

## 1. Задание 1

Какое из перечисленных океанических течений холодное?

- 1) Перуанское
- 2) Гольфстрим
- 3) Бразильское
- 4) Гвинейское

## 2. Задание 2

Напишите название субъекта РФ.

Какой субъект РФ имеет общую государственную границу сразу с тремя европейскими странами? \_\_\_\_\_

## 3. Задание 3

Расположите регионы России по степени уменьшения естественного плодородия почв на их территории. Запишите в ответ получившуюся последовательность цифр.

- 1) Архангельская область
- 2) Калужская область
- 3) Ставропольский край

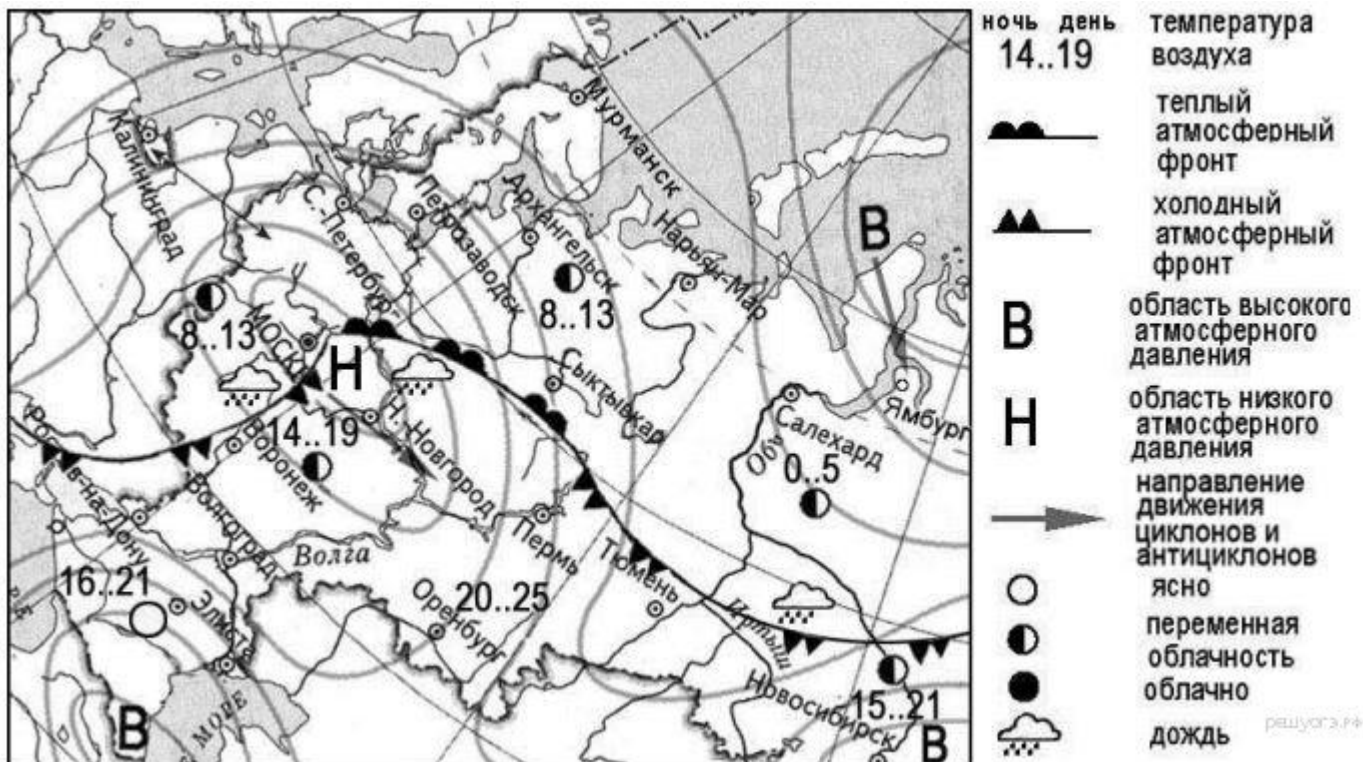
## 4. Задание 4

К традиционным занятиям какого из перечисленных народов России относится пастбищное овцеводство, коневодство и верблюдоводство?

- 1) карелы
- 2) марицы
- 3) коми
- 4) калмыки

## 5. Задание 5

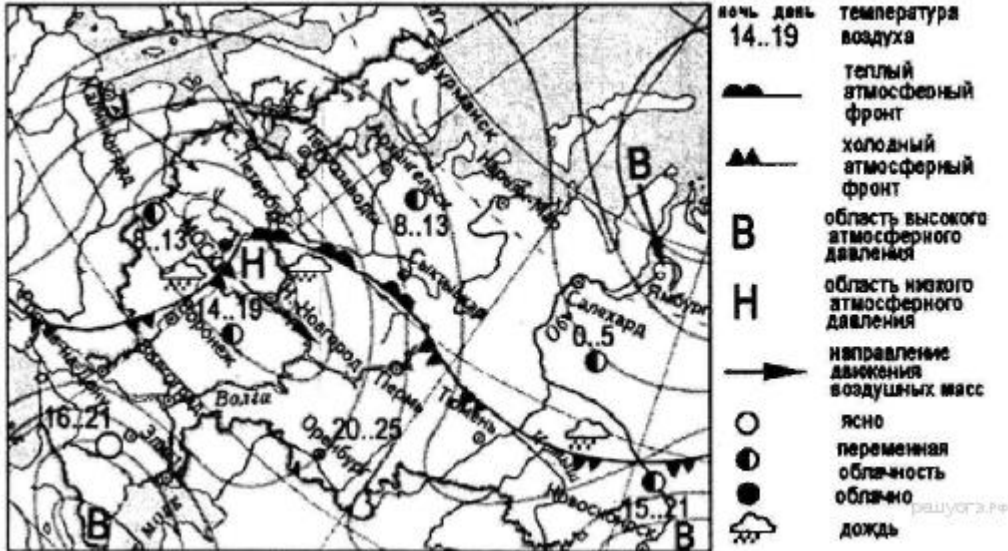
Какой из перечисленных городов, показанных на карте, находится в зоне действия антициклона?



- 1) Новосибирск
- 2) Москва
- 3) Нижний Новгород
- 4) Санкт-Петербург

### 6. Задание 6

Карта погоды составлена на 13 мая. В каком из перечисленных городов, показанных на карте, на следующий день наиболее вероятно существенное похолодание?



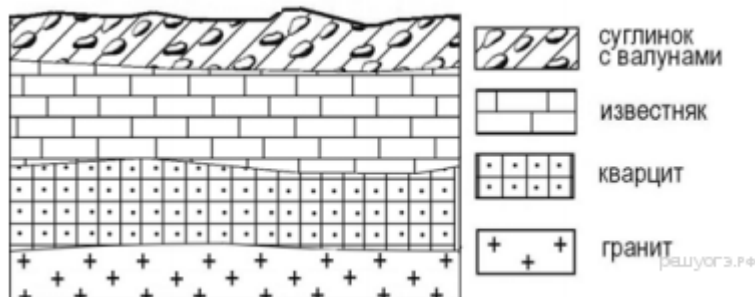
- 1) Воронеж
- 2) Петрозаводск
- 3) Сыктывкар
- 4) Москва

### 7. Задание 7

Определите, какой город России имеет географические координаты 49° с. ш. 44° в. д.

### 8. Задание 8

Во время экскурсии учащиеся сделали схематическую зарисовку залегания горных пород на обрыве в карьере.

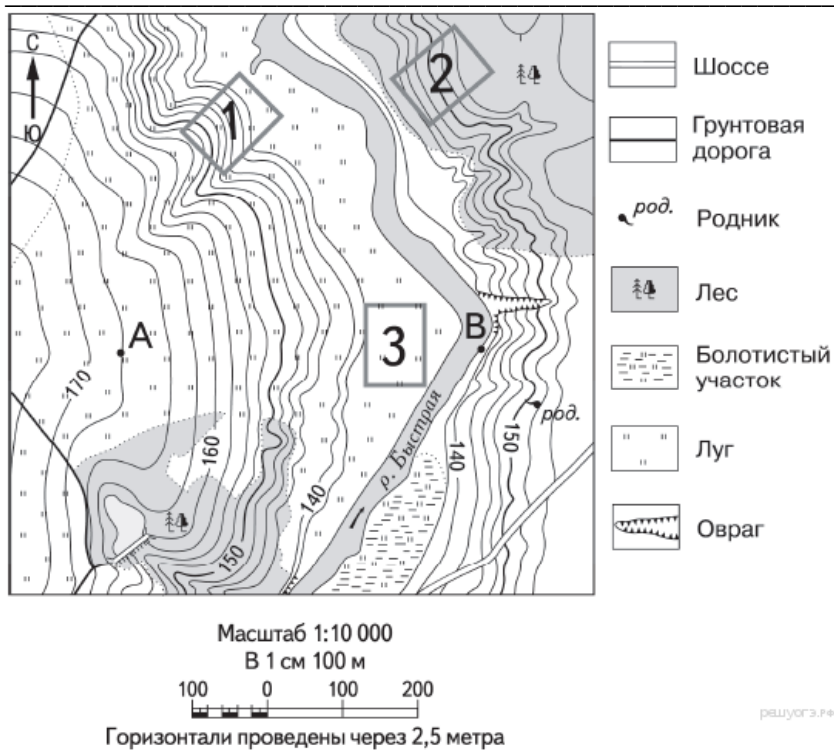


Расположите показанные на рисунке слои горных пород в порядке увеличения их возраста (от самого молодого до самого древнего). Запишите получившуюся последовательность цифр.

- 1) известняк
- 2) суглинок с валунами
- 3) кварцит

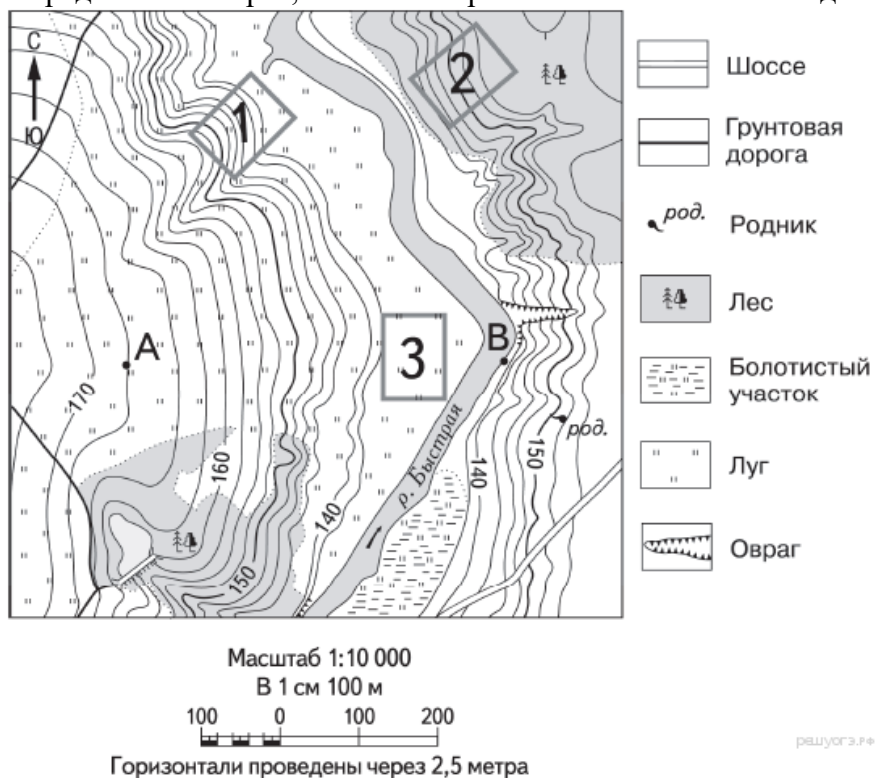
### 9. Задание 9

Определите по карте расстояние на местности по прямой от точки В до родника. Измерение проводите между точкой и центром соответствующего условного знака. Полученный результат округлите до десятков метров. Ответ запишите в виде числа.



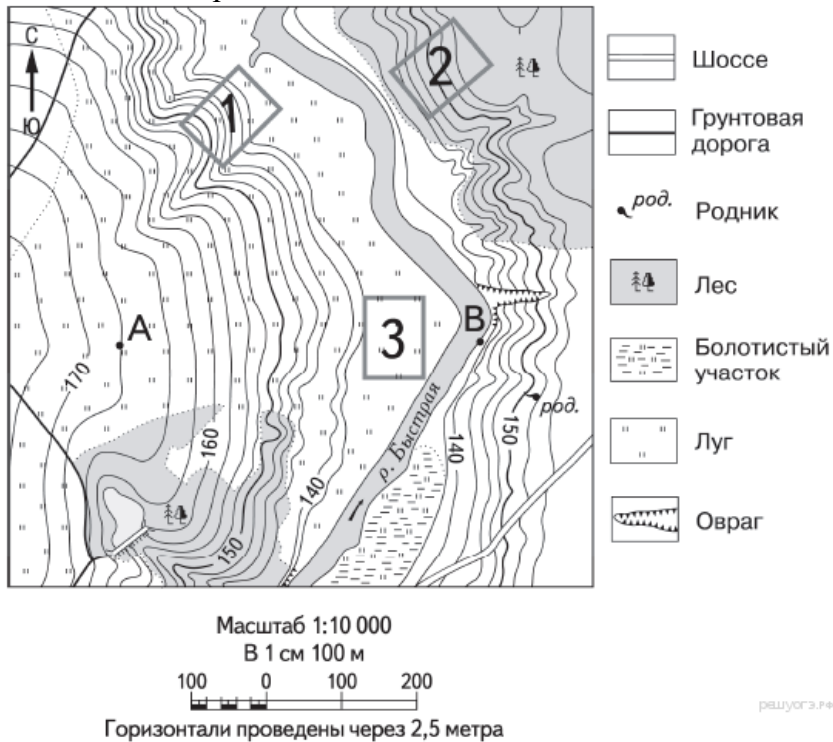
### 10. Задание 10

Определите по карте, в каком направлении от точки В находится родник.



### 11. Задание 11

Школьники выбирают место для катания на санках. Оцените, какой из участков, обозначенных на карте цифрами 1, 2 и 3, больше всего подходит для этого. Для обоснования своего ответа приведите два довода.



### 12. Задание 12

Тропические циклоны обладают огромной энергией и способны вызвать катастрофические разрушения. При Всемирной метеорологической организации создана специальная служба для своевременного информирования жителей стран, которым могут угрожать тропические циклоны. Для жителей, каких двух из перечисленных стран такие предупреждения особо необходимы?

- 1) Япония
- 2) Нигер
- 3) Таиланд
- 4) Испания
- 5) Канада

### 13. Задание 13

Расположите регионы России в той последовательности, в которой их жители встречают Новый год. Запишите в ответ получившуюся последовательность букв.

- А) Тюменская область
- Б) Республика Татарстан
- В) Амурская область

#### 14. Задание 14

Используя данные таблицы, определите, в каком из перечисленных регионов за период с 1995 по 2007 г. наблюдался рост численности городского населения.

**Площадь территории и численность населения отдельных регионов РФ**

Регион	Площадь территории, тыс. км <sup>2</sup>	Численность населения по годам, тыс. чел.								
		всего			городского			сельского		
		1995	2000	2007	1995	2000	2007	1995	2000	2007
Омская область	140	2170	2136	2030	1466	1457	1402	703	680	624
Чувашская Республика	18	1346	1334	1287	803	803	737	543	531	550
Республика Дагестан	50	2200	2443	2660	945	1040	1134	1255	1403	1526
Ивановская область	24	1260	1195	1080	1036	983	870	224	212	210

- 1) Омская область
- 2) Чувашская Республика
- 3) Республика Дагестан
- 4) Ивановская область

#### 15. Задание 15

В каких двух из перечисленных регионов России средняя плотность населения наибольшая? Запишите в ответ цифры, под которыми указаны эти регионы.

- 1) Ненецкий АО
- 2) Ленинградская область
- 3) Республика Коми
- 4) Краснодарский край
- 5) Чукотский АО